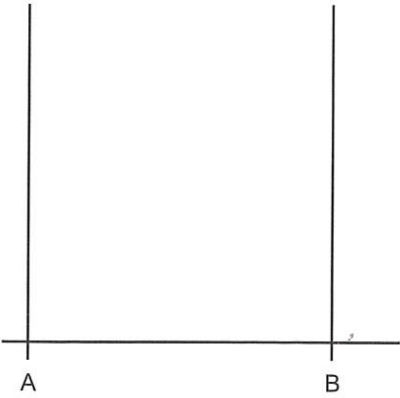
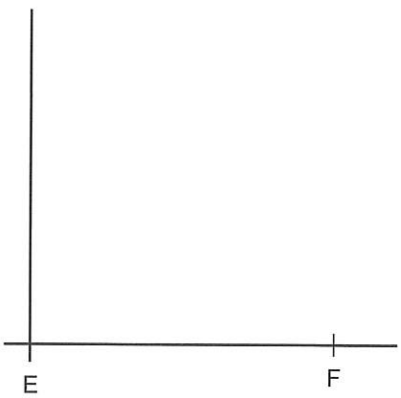
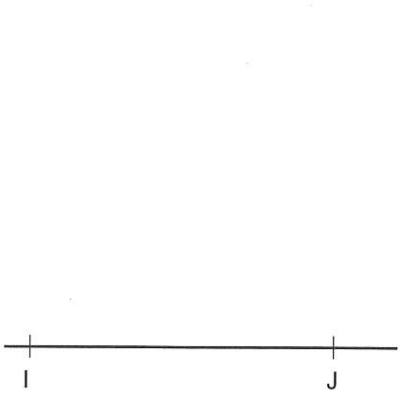


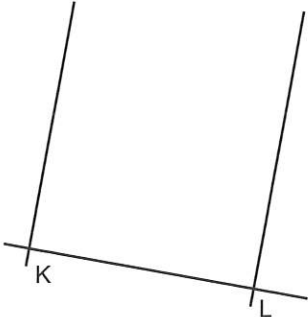
1 Dorýsujte obrázek tak, aby vznikl čtverec o délce strany 4 cm. Strany čtverce popište malými písmeny.

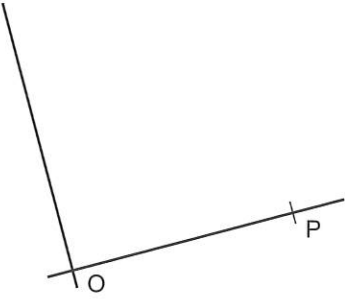
a)  **čtverec ABCD**


b)  **čtverec EFGH**

c)  **čtverec IJKL**

2 Dorýsujte obrázek tak, aby vznikl čtverec o délce strany 3 cm. Strany čtverce popište malými písmeny.

a)  **čtverec KLMN**


b)  **čtverec OPRS**


c)  **čtverec TUVY**


3 Narýsujte čtverec **ABCD** o délce strany 5 cm. Vyznačte bod **P**, který náleží čtverci **ABCD**, a bod **R**, který čtverci nenáleží.

Náčrtek:

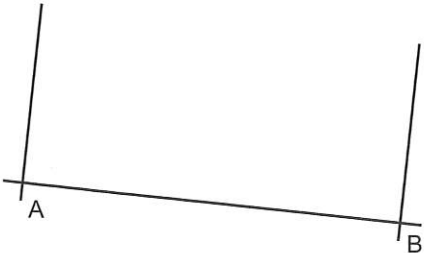
1 Dorýsujte obrázek tak, aby vznikl obdélník o délkách stran 4 cm a 2 cm. Strany obdélníku popište malými písmeny.


a)  obdélník **UVXY**


b)  obdélník **OPRS**

c)  obdélník **EFGH**

2 Dorýsujte obrázek tak, aby vznikl obdélník o délkách stran 5 cm a 2 cm. Strany obdélníku popište malými písmeny.

a)  obdélník **ABCD**

b)  obdélník **EFGH**

c)  obdélník **IJKL**

3 Narýsujte obdélník **RSTU** tak, aby platilo $|RS| = 8$ cm a $|ST| = 6$ cm. Vyznačte bod **K**, který náleží obdélníku **RSTU**, a bod **L**, který obdélníku nenáleží.

Náčrtek: