







6. EKOSYSTÉM OKOLÍ LIDSKÝCH OBYDLÍ – ROSTLINY

1. Pojmenujte rostliny na zahradě podle fotografií a části jejich názvu.



a) _____ setá

d) _____ červený

b) _____ ptačí

e) _____ kuchyňská

c) _____ setá

f) _____ domácí

2. Vybarvěte jablka, která jsou stejná. Písmena tvoří tajenku.



Tajenka: Šlechtěním jablek vznikly různé

--	--	--	--	--	--	--

3. Přiřaďte obrázky k jednotlivým druhům zeleniny v rámečcích.

KOŘENOVÁ

CIBULOVÁ

LISTOVÁ

KOŠTÁLOVÁ

PLODOVÁ

